

SALA DE RECURSOS MULTIFUNCIONAL


ESCOLA MUNICIPAL PROFESSOR SEBASTIÃO FELTRIN

PROFESSORA: CINTIA RODRIGUES BENICIO TURMA: B

ÁREAS TRABALHADAS: ÁREA DA LINGUAGEM, ÁREA DA MATEMÁTICA E ÁREA EMOCIONAL.

DATA DA REALIZAÇÃO: DE 28 DE JUNHO A 02 DE JULHO.

ALUNO (A): _____ TURMA: 5º ANO



Senhores Pais e Responsáveis


Vocês estão recebendo as **ATIVIDADES COMPLEMENTARES DE ESTUDO PARA O PERÍODO DE ISOLAMENTO – COVID 19**, referente a semana de **28 DE JUNHO A 02 DE JULHO de 2021**. Contamos com sua participação para que todas essas atividades sejam realizadas pelo seu filho.

Abraços Professora Cintia.

VÍDEO OU ÁUDIO DA EXPLICAÇÃO DA PROF^a.	Assista ao vídeo/áudio explicativo da professora.
O QUE VAI ESTUDAR?	Área da matemática: Raciocínio lógico matemático, cálculos de adição subtração, leitura e interpretação de gráficos e tabelas. Antecipação de leitura, ordenação do pensamento, sequência de fatos a vista de gravura, escrita de texto. Área Psicomotora: percepção visual, orientação espacial, coordenação visomotora, coordenação motora fina
PARA QUÊ VAMOS ESTUDAR ESSES CONTEÚDOS?	Valorizar a leitura como fonte de conhecimento. Aprimorar as habilidades de percepção das linguagens envolvidas na leitura. Ler, interpretar e ampliar vocabulário e escrita. Perceber a presença da matemática em tudo que fizermos. Trabalhar o sistema numérico. Trabalhar resolução de situação problema. Identificar informações com excessos de dados, interpretação . Identificar diferenças pela visão. aperfeiçoar o sentido. Trabalhar possibilidades para resolução da atividade. Explorar as capacidades motoras do corpo.
COMO VAMOS ESTUDAR ESSES CONTEÚDOS	As atividades propostas devem ser realizadas nos roteiros impressos. Organize um ambiente tranquilo e fique atento as explicações dadas pela professora no whatsapp.
COMO VAMOS REGISTRAR O QUE APRENDEMOS?	Buscando as atividades impressas na escola. lendo e preenchendo de acordo com as orientações as atividades enviadas completamente, sem deixar nada em branco ou incompleto. Ouvindo atentamente as explicações que a professora envia pelo whatsapp e chamando quando não entender ou conseguir fazer as atividades. devolvendo as atividades semanalmente para que a professora faça as correções necessárias.

ATENÇÃO: Qualquer dúvida estou a disposição por watsapp das 13h as 17h.

Área da Linguagem




Observe as cenas.

1-Organize as cenas enumerando a sequência dos fatos.

2-De acordo com as cenas produza um texto contando o que aconteceu(dê um titulo a história,dê nome aos personagens,lembrando que toda história tem um começo,meio e fim).

Área da Matemática

João é dono de uma fábrica de salgados. Observe no gráfico o número de salgados que ele vendeu durante uma semana e depois responda:



a) Quantos salgados João vendeu nos três primeiros dias da semana? _____

b) Que dia da semana ele vendeu mais salgados? _____

c) Que dia da semana ele vendeu menos salgados? _____

d) Quantos salgados ele vendeu nessa semana? _____

e) Se nessa semana fosse feriado na quarta-feira e João não trabalhasse, quantos salgados ele teria vendido? _____

Vamos resolver essa cruzadinha.

a) 3 x 3
 b) 7 x 3
 c) 15 - 10
 d) 9 x 9
 e) 8 + 4
 f) 2 x 8
 g) 59 - 52
 h) 2 x 10
 i) 3 x 6

a) V
 b) I
 c) N
 d) T
 e) E
 f) S
 g) E
 h) T
 i) E

Área Psicomotora

Atividade passar a bola



Para esta atividade você irá precisar de:

- 1 Bola e pelo menos três pessoas para realizar com você.

Os exercícios com a bola serão feitos da seguinte maneira:

- de forma enfileirada deitado, o aluno irá fazer tentativas de passar a bola para a pessoa que esta atrás e assim em diante,
- depois em pé passar a bola por trás do ombro para a pessoa que esta atrás
- para finalizar passar a bola por debaixo das pernas.

GOSTOU DA BRINCADEIRA? _____